

1 	2 	3 	4 	5 	6 
7 	8 	9 	10 	11 	12 

Reken maar !  
BLOK 8



hoeveel zie je?

20	8	13	19	11	16
12	18	14	17	15	7

1 9	2 17	3 16	4 13	5 12	6 11
7 15	8 18	9 14	10 10	11 20	12 19

Reken maar !  
BLOK 8



getallen tot 20 ordenen

juist <b>voor</b> 20 staat ...	juist <b>voor</b> 18 staat ...	juist <b>na</b> 15 staat ...	juist <b>na</b> 13 staat ...	juist <b>voor</b> 14 staat ...	juist <b>voor</b> 11 staat ...
<b>tussen</b> 10 en 12 staat ...	<b>tussen</b> 17 en 19 staat ...	juist <b>na</b> 11 komt ...	juist <b>na</b> 19 komt ...	<b>tussen</b> 14 en 16 staat ...	<b>tussen</b> 8 en 10 staat ...









1 12	2 14	3 15	4 18	5 16	6 13
7 17	8 8	9 9	10 19	11 20	12 11

Reken maar !  
BLOK 8



optellen tot 20

$16+1=$	$10+9=$	$13+3=$	$10+10=$	$10+1=$	$3+5=$
$14+4=$	$10+2=$	$12+3=$	$4+5=$	$10+3=$	$12+2=$

1 	2 4	3 	4 	5 	6 6
7 	8 8	9 	10 	11 	12 2

Reken maar !  
BLOK 8



zoek het dubbel

het dubbel van 	het dubbel van 	het dubbel van 	het dubbel van 	het dubbel van 3 is ....	het dubbel van 2 is ....
het dubbel van 	het dubbel van 	het dubbel van 	het dubbel van 	het dubbel van 1 is ....	het dubbel van 4 is ....